



社 会

2019 年度 東京純心女子中学校入学試験

(1 日午前 特待生選抜を兼ねる)

解答は解答用紙に記入しなさい。

1 以下の年表を見て、あとの問に答えなさい。

年	主な出来事
1858	江戸幕府がアメリカとの間で不平等な条約を結ぶ ①
	↑↓ A
1871	使節団が欧米の視察に出かけ条約改正をうったえるも、失敗 ②
1883	鹿鳴館をつくり、舞踏会を開く ③
	↑↓ B
1894	イギリスとの間で条約の一部改正に成功 ④
	(a) 日清戦争開始
	↑↓ C
1904	(b) 日露戦争開始
	↑↓ D
1911	条約改正を達成 ⑤

問1 年表中①について。

(1) このとき結んだ不平等条約について説明したア～エの文のうち、正しいものを1つ選び、記号で答えなさい。

- ア. 浦賀に来たペリーと、日米修好通商条約を結んだ。
- イ. 浦賀に来たハリスと、日米修好通商条約を結んだ。
- ウ. 下田に来たペリーと、日米修好通商条約を結んだ。
- エ. 下田に来たハリスと、日米修好通商条約を結んだ。

(2) この条約は日本にとって、(X) 権がなく、また、相手国に対し (Y) 権を認めているという2つの点で不平等であった。(X) (Y) にあてはまる語句をそれぞれ答えなさい。

問2 年表中②について。

(1) 使節団に加わった人物のうち、初代内務卿として新政府の基礎を固めることに尽力したものの、新政府に不満を持つ士族によって暗殺された人物はだれか。ア～エより1人選び、記号で答えなさい。

- ア. 岩倉具視 イ. 板垣退助 ウ. 伊藤博文 エ. 大久保利通

(2) このとき日本に残った政府の主要メンバーの中に、のちに外交政策などをめぐる対立を理由に政府を去り、西南戦争の中心となった人物がいる。それはだれか、答えなさい。

問3 年表中③・④・⑤について。それぞれの出来事に最も関係の深い外務大臣はどれか。ア～カより選び、記号で答えなさい。

- ア. 青木周蔵 イ. 陸奥宗光 ウ. 井上馨
エ. 小村寿太郎 オ. 寺島宗則 カ. 大隈重信

問4 年表中下線(a)・(b)について。

- (1) それぞれの戦争の講和条約の名前を答えなさい。
- (2) 次のア～オは講和条約の内容である。(a)の講和条約の内容をすべて選び、記号で答えなさい。

- ア. 2億両の賠償金を日本に支払う。
イ. 遼東半島の利権、南満州の鉄道の利権を日本にゆずる。
ウ. 遼東半島、台湾などを日本の領土とする。
エ. 敗戦国は、朝鮮が独立国であると認める。
オ. 樺太の南半分を日本にゆずる。

問5 以下のⅠ～Ⅲの絵について、あとの問いに答えなさい。

- (1) Ⅰ・Ⅱの絵は、年表中の出来事と同時期に起こった出来事を風刺したものである。これらの出来事が年表中のA～Dのどこにあてはまるか、それぞれ記号で答えなさい。



※和歌山県沖でイギリス船が沈没した事件を風刺した絵。イギリス人は全員助かったが、日本人乗客は全員亡くなった。



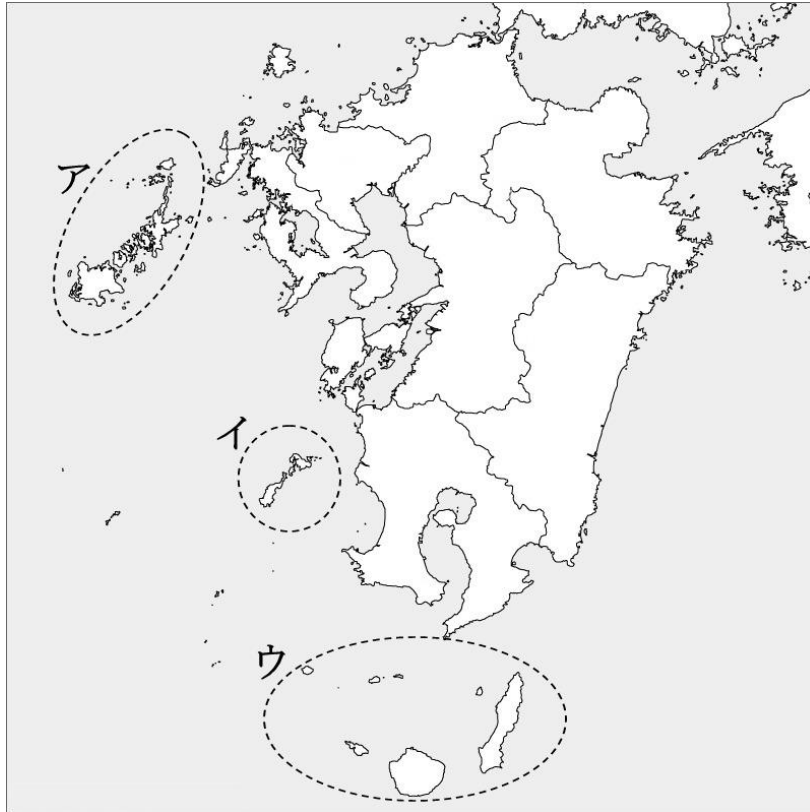
※ロシアが焼いている粟(韓国)を、イギリスが日本に拾わせようとしている。アメリカがその様子を後ろから見ている。

- (2) Ⅲの絵は、日清戦争で勝利した日本に対し、ドイツとフランスを引き連れたロシアが銃を突きつけて、日本が持つ戦利品を要求している様子を風刺したものである。この絵が表している出来事を何というか、答えなさい。



※SPOIL OF WAR…戦利品

2 次のⅠ～Ⅳの各文を読んで、あとの間に答えなさい。



Ⅰ 日本は4つの大きな島を中心に、最北端のえとろふ択捉島から最西端の（ X ）まで、およそ7000近くの a島が連なっています。そのため、国土面積は世界で約60番目ですが、b海岸線の長さは約3.5万キロメートルもあります。日本の排他的経済水域は国土面積の約11倍にも及ぶ広大なものですが、これを確保するために、c水没を防ぐための工事を行った島もあります。いくつかの島々は、d周辺諸国との間で領土問題となっているものもあります。

問1 文中の空らん（ X ）にあてはまる語句を答えなさい。

問2 下線部 a について、次の説明文にふさわしい島（列島・諸島）を、地図中のア～ウより選び、記号で答えなさい。

この列島は、2018年に世界遺産に登録された「長崎と天草地方のせんぶく潜伏キリシタン関連遺産」の一部をふくんでいる。

問3 下線部 **b** について、次の表は、長い海岸線をもつ都道府県を1位から5位まで順に並べたものです。表中の空らん（ **A** ）にあてはまる都道府県を、下のア～エより1つ選び、記号で答えなさい。

順位	都道府県
1	北海道
2	(A)
3	鹿児島県
4	沖縄県
5	愛媛県

ア. 岩手県 イ. 高知県 ウ. 長崎県 エ. 新潟県

問4 下線部 **c** について、日本の最南端でもあるこの島の名を答えなさい。

問5 下線部 **d** について、日本の国土のうち、島根県の竹島、沖縄県の尖閣諸島は、それぞれの国や地域との間で領土問題となっていますか。下のア～カより、正しいものを1つ選び、記号で答えなさい。

	ア	イ	ウ	エ	オ	カ
竹島	中国・台湾	韓国	ロシア	韓国	ロシア	中国・台湾
尖閣諸島	韓国	中国・台湾	韓国	ロシア	中国・台湾	ロシア

II 日本の国土は約75%近くが **e** 山地 です。活動中の火山も多く、2018年の1月には（ **Y** ）で発生した噴火により死者が出るなど、被害がもたらされる地域も少なくありません。

問6 下線部 **e** について、次の(1)、(2)の文が説明している山地の名前を、それぞれ答えなさい。

- (1) 青森県と秋田県にまたがるこの山地は、広大なブナ林がのこっていることから、世界自然遺産に登録された。
- (2) 夏に、南東の季節風がこの山地にぶつかり、その南側の高知平野などに大量の雨を降らせる原因となっている。

問7 文中の空らん（ **Y** ）にふさわしい語句を、次のア～エより1つ選び、記号で答えなさい。

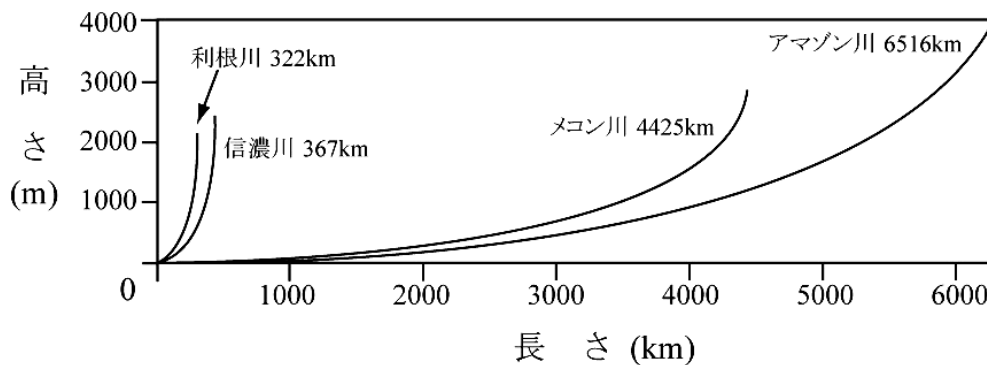
ア. 浅間山 イ. 阿蘇山 ウ. ^{おんたけ}御嶽山 エ. 草津白根山

Ⅲ 信濃川や f 利根川 は、日本を代表する大きな河川で、ゆったりと流れているように見えますが、g 大陸の河川と比べると、どのような特色があるのでしょうか。 また、h 河川はどのような地形を生み出し、人々の生活とどのような関わりを持ってきたのでしょうか。

問 8 下線部 f に関する、次の文ア～エのうち、まちがっているもの を 1 つ選び、記号で答えなさい。

- ア. 川の長さは日本で 2 位だが、流域面積は日本一である。
- イ. 群馬県の北部を源として流れはじめ、太平洋に注いでいる。
- ウ. 鬼怒川や多摩川など、多くの川が利根川に合流している。
- エ. 上流部に多くのダムが建設され、首都圏の水源となっている。

問 9 下線部 g について、次の図は、日本と海外のおもな河川の、河口からの長さとおもな高さとをあらわしたものです。この図から、日本のおもな河川と、外国のおもな河川とを比べてみて、日本の河川の特徴を説明しなさい。



『理科年表 平成 30 年版』ほかによる

問 10 下線部 h について、次の各問に答えなさい。

- (1) 次の語句の組み合わせは、平野とその平野を流れる河川名をあらわしたものです。これらの組み合わせとして まちがっているもの を、次のア～エより 1 つ選び、記号で答えなさい。

	平野名	河川名
ア	濃尾平野	木曾川
イ	石狩平野	石狩川
ウ	筑紫平野	筑後川
エ	越後平野	神通川

(2) 次のA、Bの文が説明している地形の名称を、正しく組み合わせているものを、下のア～カより1つ選び、記号で答えなさい。

- A. 川が山地から平地に流れ出てくるところに土砂が積もってつくられる地形。
 B. 川の河口に土砂が積もってつくられる地形。

	ア	イ	ウ	エ	オ	カ
A	三角州	三角州	砂丘	砂丘	扇状地	扇状地
B	砂丘	扇状地	三角州	扇状地	三角州	砂丘

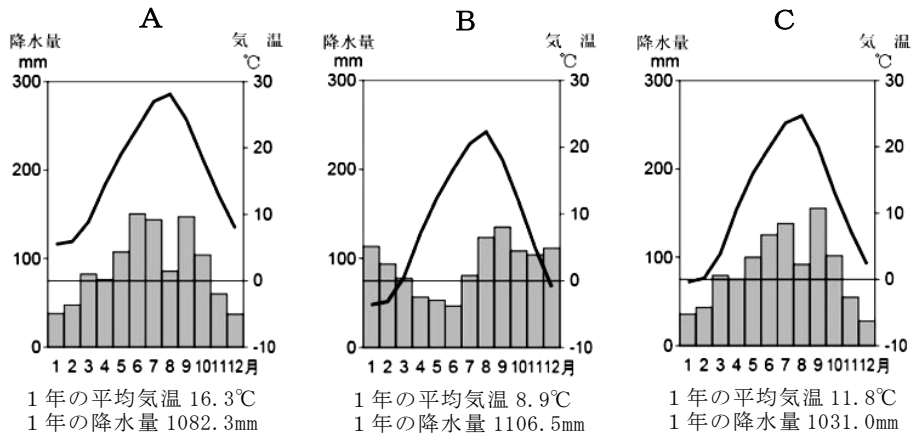
IV 日本は i 47 の都道府県 に分かれています。それらは大きさや形、人口も全くちがいます。また、日本列島は南北に長く、 j その気候の特色も様々 です。

問 11 下線部 i について、次の (1) ～ (4) の都道府県の組み合わせは、それぞれどのような共通点を持つことでまとめられていますか。下のア～カより最も適しているものを、それぞれ1つずつ選び、記号で答えなさい。

- (1) 東京都 神奈川県 大阪府
 (2) 香川県 島根県 愛媛県
 (3) 滋賀県 茨城県 北海道
 (4) 青森県 山形県 長崎県

- ア. 工業出荷額が1位～3位までの都道府県。
 イ. 面積の広さが1位～3位までの湖のある都道府県。
 ウ. りんご、さくらんぼ、びわの生産量がそれぞれ1位の都道府県。
 エ. 人口が上位3位までの都道府県。
 オ. 2016年～17年にかけての人口減少率が上位3位までの都道府県。
 カ. 都道府県庁所在地の都市名に漢字の「松」がふくまれる都道府県。

問 12 下線部 j について、次の雨温図 A～C は、日本でも年間の降水量が比較的少ない札幌市、松本市、高松市の月別の平均気温と降水量を示したものです。雨温図 A～C と、3つの都市を正しく組み合わせているものを、下のア～カより 1つ選び、記号で答えなさい。



	ア	イ	ウ	エ	オ	カ
A	札幌市	札幌市	松本市	松本市	高松市	高松市
B	松本市	高松市	札幌市	高松市	札幌市	松本市
C	高松市	松本市	高松市	札幌市	松本市	札幌市

3 以下の文を読み、あとの問に答えなさい。

大昔、人間は欲しい物を手に入れるために、おもに物々交換を行っていました。しかしその場合、相手が欲しい物を自分が持っていないと交換することができません。そこで、いろいろな物と交換できる価値を持つ、貨幣が使われるようになり、いつでも欲しい物と交換することができるようになりました。かつては米や布、貝などが貨幣の役割を果たしていましたが、その後、(a)金・銀・銅などの金属から貨幣が作られるようになり、紙で作った貨幣も登場します。

そして明治時代、政府は1871(明治4)年に新貨条例という貨幣制度に関する法令を定め、これにより(b)全国统一の貨幣の単位が導入されました。1882(明治15)年には(c)日本銀行が設立され、唯一紙幣を発行する銀行として、貨幣の価値を安定させる役割を担いました。しかし実際には、物価の下落を防ぐことができず、深刻な不況に陥ることもありました。

そして、昭和に入り第2次世界大戦が勃発すると、その戦費や復興のための費用をまかなうため、貨幣の発行量が急増し、急激な(d)インフレーションが発生して国民の生活に悪影響を及ぼしました。

貨幣に関わる歴史を振り返ってみると、貨幣の種類や使われ方、貨幣に関する政策は様々に変化してきたことがわかります。昨今では日常的に流通し、使用する貨幣の他に、(e)特別なイベントなどで発行される貨幣などもあります。また(f)プリペイドカードやクレジットカードなどのカードでも買い物をする事ができますし、インターネットの普及とともに、仮想通貨という、全く新しい通貨も登場しています。しかし、このような変化の中でも、貨幣の大切さは人々の共通した価値観としてしっかりと根付いているのです。

問1 下線(a)について。

(1) 奈良時代の都、(A)には国家が管理する市があり、人々は(B)を使って食料や日用品を購入することもできました。

- ① (A)にあてはまる都の名前を答えなさい。
② (B)にあてはまる、奈良時代に発行されたお金は次のうちどれか。ア～エより1つ選び、記号で答えなさい。

ア



イ



ウ



エ



(2) 江戸時代に入ると、金貨はおもに江戸で、銀貨はおもに大阪で使われました。
このとき金貨・銀貨の交換を担い、現在の銀行のような働きをした商売を何と
いうか、答えなさい。

問2 下線(b)について。このとき統一された単位は()・銭・厘でした。()
にあてはまる語句を、漢字1字で答えなさい。

問3 下線(c)について。日本銀行についてまとめた以下の文を読み、(A)～
(C)にあてはまる語句を下のア～クよりそれぞれ選び、記号で答えなさい。

一国の金融^{きんゆう}の中心となる銀行を(A)銀行という。日本銀行は日本の
(A)銀行である。日本銀行は一般の銀行を相手に預金^{よきん}を受け入れ、資金^{しきん}
を貸し出すことから、「(B)の銀行」ともよばれる。日本銀行は一般の
銀行にお金を貸し出すときの(C)を上げ下げすることなどによって、世
の中のお金の量を調節している。たとえば、この(C)を下げると銀行が
企業などに貸し出すときの(C)も下がるので、お金を借りやすくなり、
世の中のお金の流れが増す。

- | | | | |
|--------|-------|-------|--------|
| ア. 金融 | イ. 銀行 | ウ. 中央 | エ. 大日本 |
| オ. 手数料 | カ. 金利 | キ. 税率 | ク. 最高 |

問4 下線(d)について。これはどのような現象ですか。説明しなさい。

問5 下線(e)について。下の貨幣は、平成19年に地方自治法60周年を記念して、都
道府県ごとに発行された記念貨幣です。それぞれの地域を代表する風物^{ふうぶつ}を織り込
んだデザインになっていますが、どこの都道府県か。ア～クよりそれぞれ選び、
記号で答えなさい。



注：画像は、出題の都合上、一部加工をしている。

- | | | | |
|--------|--------|---------|--------|
| ア. 新潟県 | イ. 栃木県 | ウ. 岐阜県 | エ. 長崎県 |
| オ. 島根県 | カ. 兵庫県 | キ. 鹿児島県 | ク. 北海道 |

問6 下線(f)について。近年、貨幣にかわってカードの使用が増えている。貨幣と比
較^{かく}してカードの便利^{べんり}な点と問題点をそれぞれ答えなさい。